



**UFPR**



# TE 231

## Capitulo 5 – Ajuste de Curva

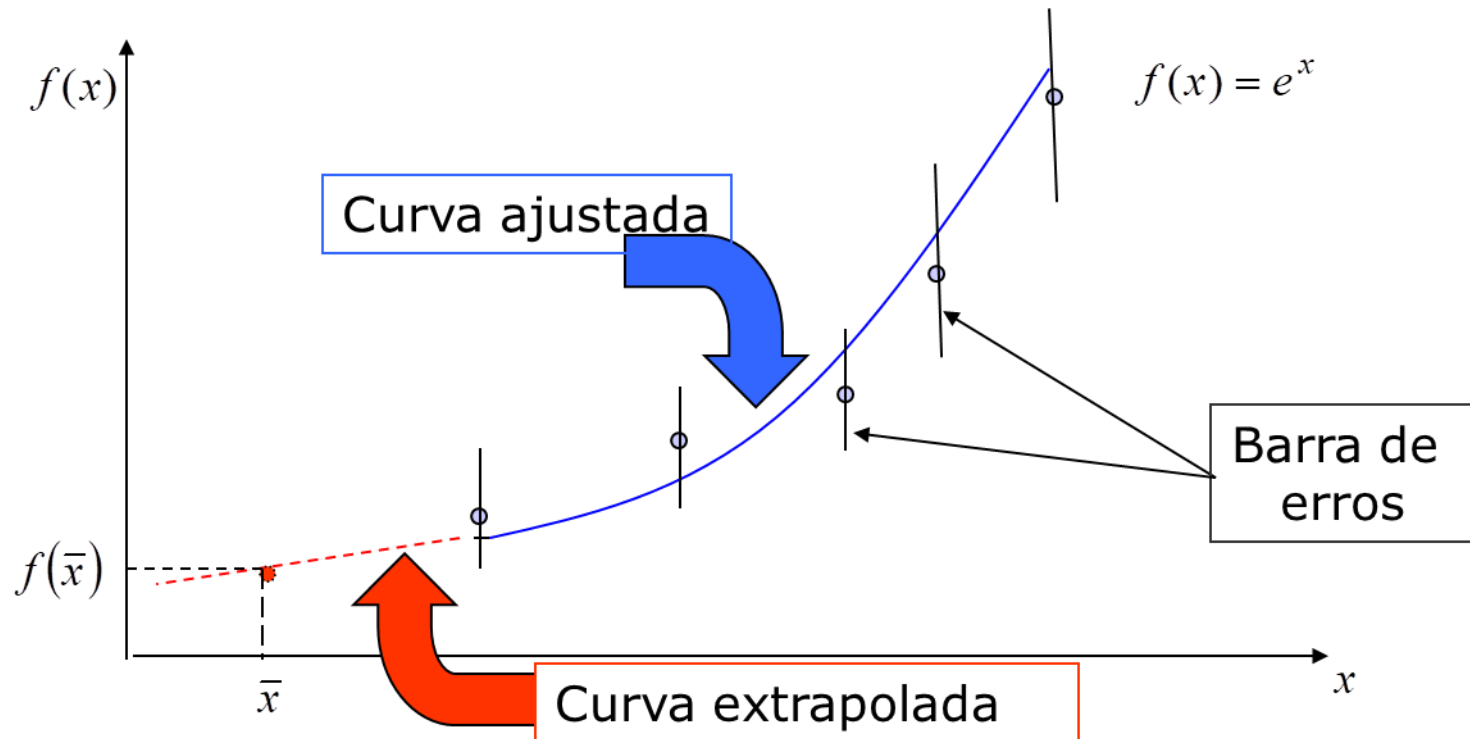
Prof. Mateus Duarte  
Teixeira

# 1. Introdução

- No capítulo anterior vimos uma forma de trabalhar com uma função (polinômio) definida por uma tabela. A interpolação polinomial.
- Nem sempre a interpolação é aconselhável.
  1. Quando se quer aproximar um valor da função fora do intervalo de tabelamento. Extrapolação.
  2. Quando os valores são medidas experimentais com erros. Neste caso a função deve passar pela barra de erros não pelos pontos.

# 1. Introdução

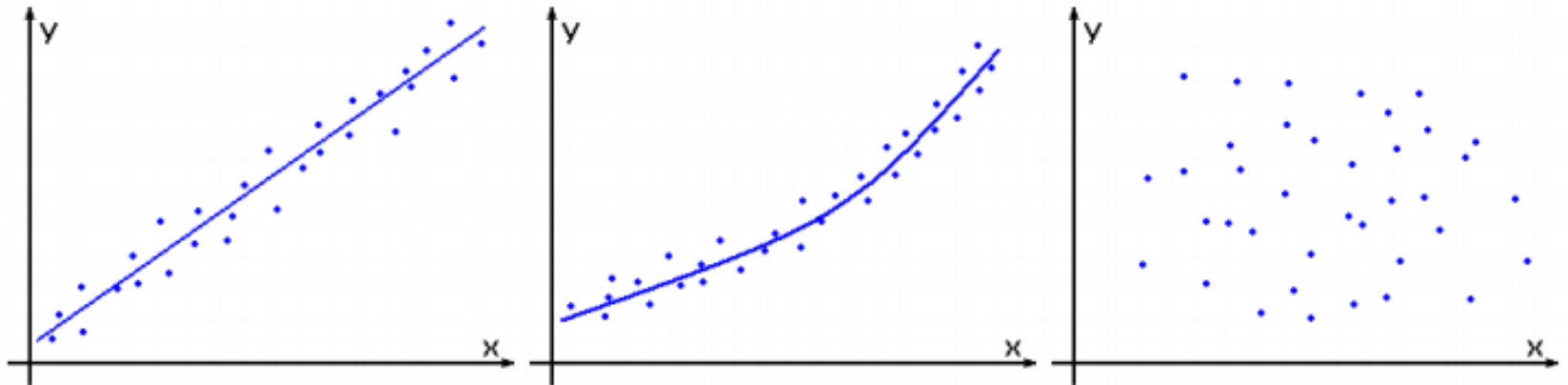
- Graficamente, a extrapolação e o ajuste por barras de erros são vistos abaixo:



# 1. Introdução

- O primeiro passo é a coleta de dados exibindo os valores correspondentes das variáveis. Por exemplo, sejam  $x$  e  $y$ , respectivamente, a altura e o peso de alunos do sexo masculino. Uma amostra de  $n$  indivíduos acusaria alturas  $x_1, x_2, \dots, x_n$  e os correspondentes pesos  $y_1, y_2, \dots, y_n$ .
- O segundo passo é criar um gráfico dos pontos  $(x_1, y_1), (x_2, y_2), \dots, (x_n, y_n)$  em um sistema de coordenadas retangulares. O conjunto resultante costuma chamar-se de diagrama de dispersão. Pelo diagrama de dispersão, muitas vezes se pode visualizar uma curva aproximativa dos dados

# 1. Introdução

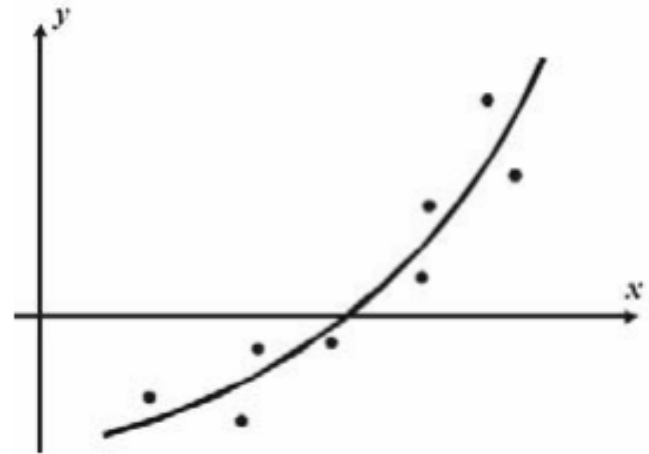


# 1. Introdução

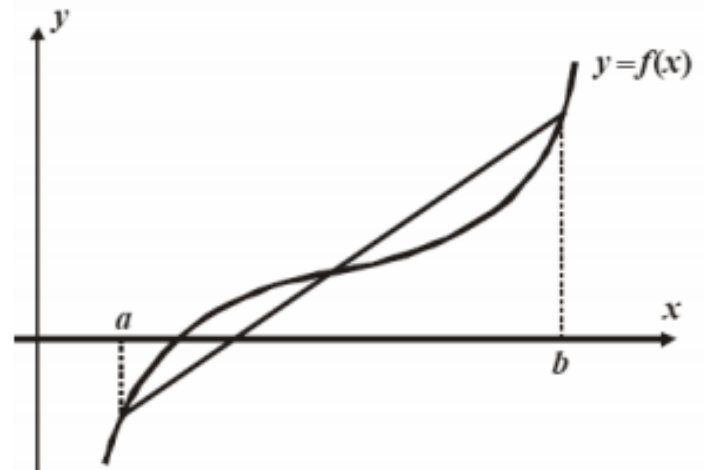
- Temos que ajustar estas funções tabeladas por uma função que seja uma “boa aproximação” e que permita extrapolações com alguma margem de segurança.
- Assim, o objetivo deste processo é aproximar uma função  $f(x)$  por outra função  $\phi(x)$ , escolhida de uma família de funções ou por uma soma de funções em duas situações distintas:
  - **Domínio discreto:** quando a função  $f$  é dada por uma tabela de valores.
  - **Domínio contínuo:** quando a função  $f$  é dada por sua forma analítica.

# 1. Introdução

- Domínio Discreto



- Domínio Contínuo



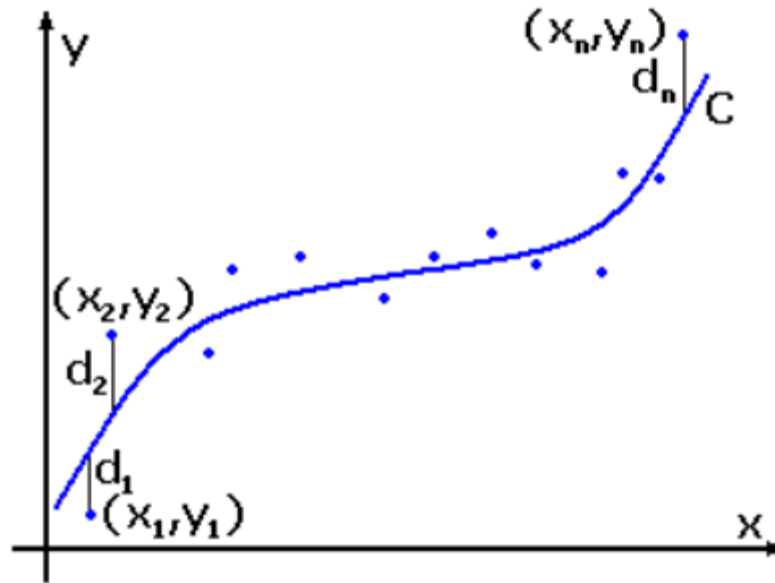
# 1. Introdução

- Temos que ajustar estas funções tabeladas por uma função que seja uma “boa aproximação” e que permita extrapolações com alguma margem de segurança.
- Dado os pontos  $(x_1, f(x_1)), (x_2, f(x_2)), \dots, (x_m, f(x_m))$  num intervalo  $[a, b]$ , devemos escolher funções  $g_1(x), g_2(x), \dots, g_n(x)$ , e constantes  $\alpha_1(x), \alpha_2(x), \dots, \alpha_n(x)$  tais que a função  $\varphi(x) = \alpha_1 g_1(x) + \alpha_2 g_2(x) + \dots + \alpha_n g_n(x)$  se aproxime de  $f(x)$



## 2. Método dos Mínimos Quadrados

- De modo geral, pode-se ajustar mais de uma curva a determinado conjunto de dados. A fim de evitar critérios individuais na escolha de retas, parábolas, etc., é necessário chegar-se a um consenso quanto ao que se deve entender por “melhor reta”, “melhor curva”, etc.
- A fim de motivar uma possível definição, consideremos a figura a seguir, em que os pontos são dados por  $(x_1, y_1), (x_2, y_2), \dots, (x_n, y_n)$ .



- Para determinado valor  $x$ , digamos  $x_1$ , haverá uma diferença entre o valor  $y_1$  e o correspondente valor “ajustado”, determinado pela curva  $C$ . Denotamos tal diferença por  $d_1$ , e chamamo-la desvio, erro ou resíduo. Uma medida da “aderência”, ou “validade do ajustamento”, da curva  $C$  aos dados do problema é dada por

$$d_1^2 + d_2^2 + \dots + d_n^2$$

- De todas as curvas que se aproximam de determinado conjunto de pontos, a curva que goza da propriedade

$$d_1^2 + d_2^2 + \dots + d_n^2 = \text{Mínimo}$$

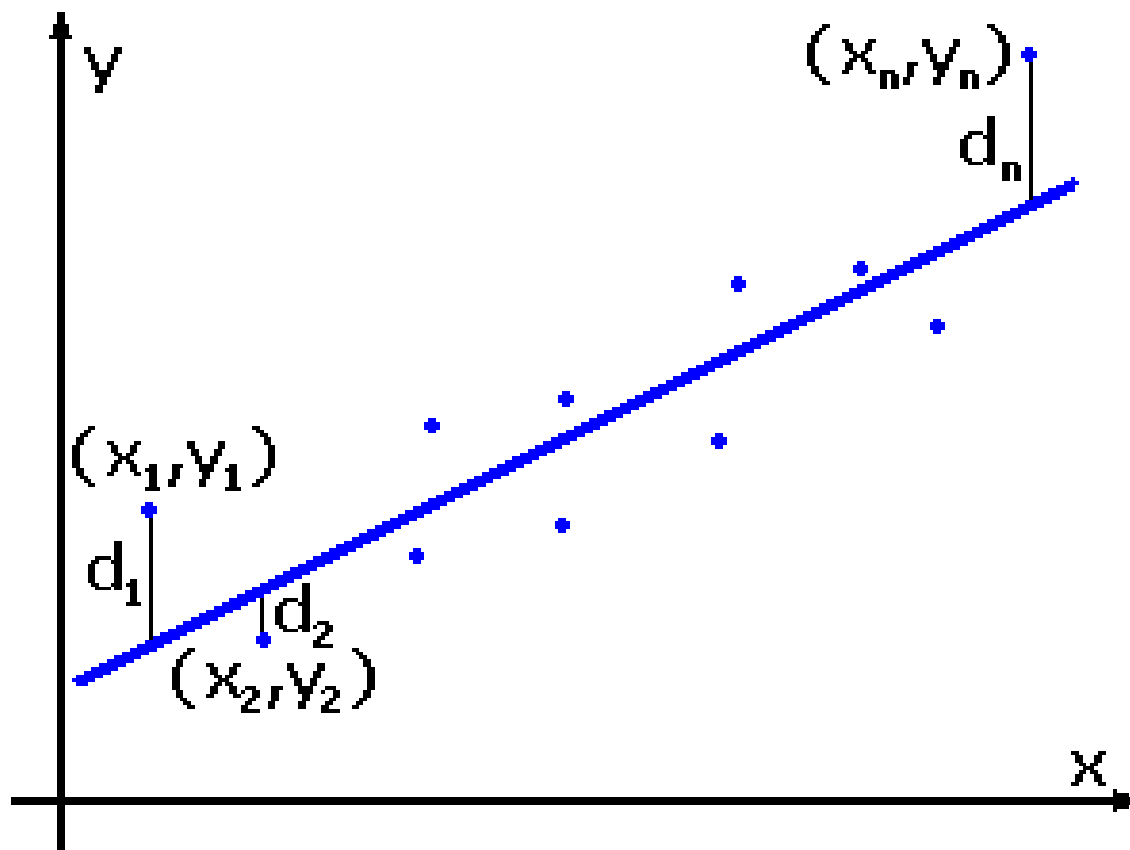
**É a melhor curva ajustadora**

- Uma curva com esta propriedade se ajusta aos dados no sentido de mínimos quadrados, e é chamada curva de mínimos quadrados. Temos então reta de mínimos quadrados, parábola de mínimos quadrados, etc.
- É usual empregar a definição acima quando  $x$  é a variável independente e  $y$  é a variável dependente. Se  $x$  for a variável dependente, modifica-se a definição, considerando-se os desvios horizontais ao invés de verticais.
- Outra possibilidade consiste em considerar distâncias perpendiculares dos pontos observados à curva, em lugar de distâncias horizontais ou verticais. Tal processo, entretanto, não é muito usado.

- A reta dos mínimos quadrados.
  - Pela definição, temos que a reta de mínimos quadrados que aproxima, ou ajusta, o conjunto de pontos  $(x_1; y_1)$ ,  $(x_2; y_2)$ , ...,  $(x_n; y_n)$  tem por equação:

$$y = bx + a$$

onde  $a$  e  $b$  são incógnitas a serem determinadas.



- Os valores de  $y$  na reta de mínimos quadrados, correspondente a  $x_1; x_2; \dots; x_n$  são

$$a + bx_1; a + bx_2; \dots; a + bx_n$$

- Logo, os correspondentes desvios verticais são:

$$d_1 = a + bx_1 - y_1$$

$$d_2 = a + bx_2 - y_2$$

⋮

$$d_n = a + bx_n - y_n$$

Então a soma dos quadrados dos desvios é:

$$\sum_{i=1}^n d_i^2 = \sum_{i=1}^n (a + bx_i - y_i)^2$$

ou, de forma abreviada,

$$\sum d^2 = \sum (a + bx - y)^2$$

é uma função de  $a$  e  $b$ , isto é,

$$F(a, b) = \sum (a + bx - y)^2$$

A condição necessária para que esta expressão seja mínima é  $\frac{\partial F}{\partial a} = 0$ ,  $\frac{\partial F}{\partial b} = 0$ .



Como

$$\frac{\partial F}{\partial a} = \sum \frac{\partial F}{\partial a} (a + bx - y)^2 = \sum 2(a + bx - y)$$

$$\frac{\partial F}{\partial b} = \sum \frac{\partial F}{\partial b} (a + bx - y)^2 = \sum 2x(a + bx - y)$$

obtemos

$$\sum (a + bx - y) = 0 \quad \Rightarrow \quad \sum y = an + b \sum x$$

$$\sum x(a + bx - y) = 0 \quad \Rightarrow \quad \sum xy = a \sum x + b \sum x^2$$

- Portanto, para determinar as incógnitas  $a$  e  $b$  devemos resolver o seguinte sistema:

$$\begin{aligned}\sum y &= an + b \sum x \\ \sum xy &= a \sum x + b \sum x^2\end{aligned}\quad (2)$$

que é chamado de equações normais para a reta de mínimos quadrados.

Os valores de  $a$  e  $b$  obtidos de (2) são dados por

$$a = \frac{(\sum y)(\sum x^2) - (\sum x)(\sum xy)}{n \sum x^2 - (\sum x)^2}\quad (3)$$

$$b = \frac{n \sum xy - (\sum x)(\sum y)}{n \sum x^2 - (\sum x)^2}\quad (4)$$

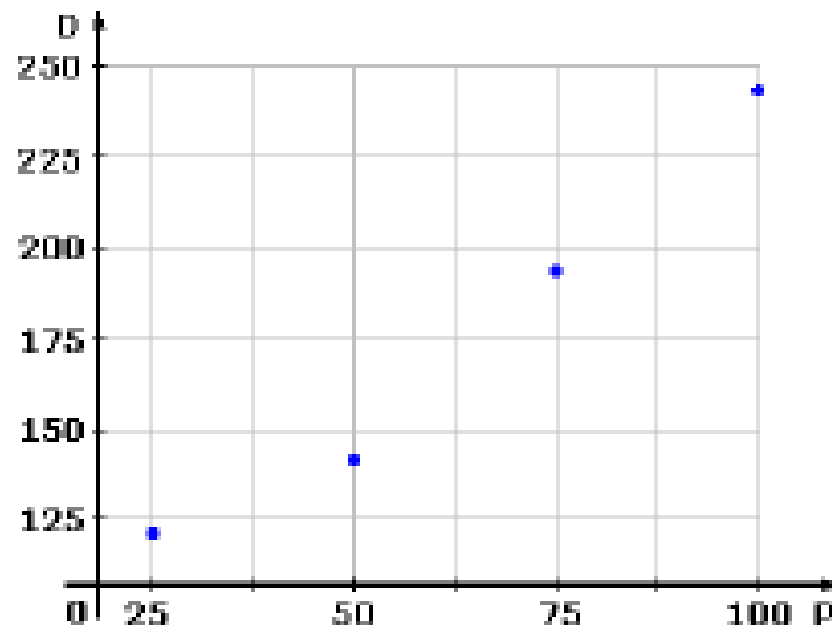
- Portanto, para determinar as incógnitas  $a$  e  $b$  devemos resolver o seguinte sistema linear:

$$\begin{bmatrix} n & \sum x \\ \sum x & \sum x^2 \end{bmatrix} \begin{bmatrix} a_0 \\ a_1 \end{bmatrix} = \begin{bmatrix} \sum y \\ \sum xy \end{bmatrix}$$

## ○ Exemplo 1:

- A dureza (HB) para aços comuns recozidos varia com a quantidade de perlita (um tipo de estrutura cristalina do aço) presente.
- a) Obtenha um modelo matemático para descrever os dados medidos.
- b) Qual a dureza do material com 90% de Perlita?

% de Perlita	25	50	75	100
Dureza (HB)	120	138	190	240



- Observamos visualmente um comportamento linear da dureza  $D$  em relação a porcentagem de perlita  $P$ , logo, obteremos um modelo da forma

$$y = bx + a$$

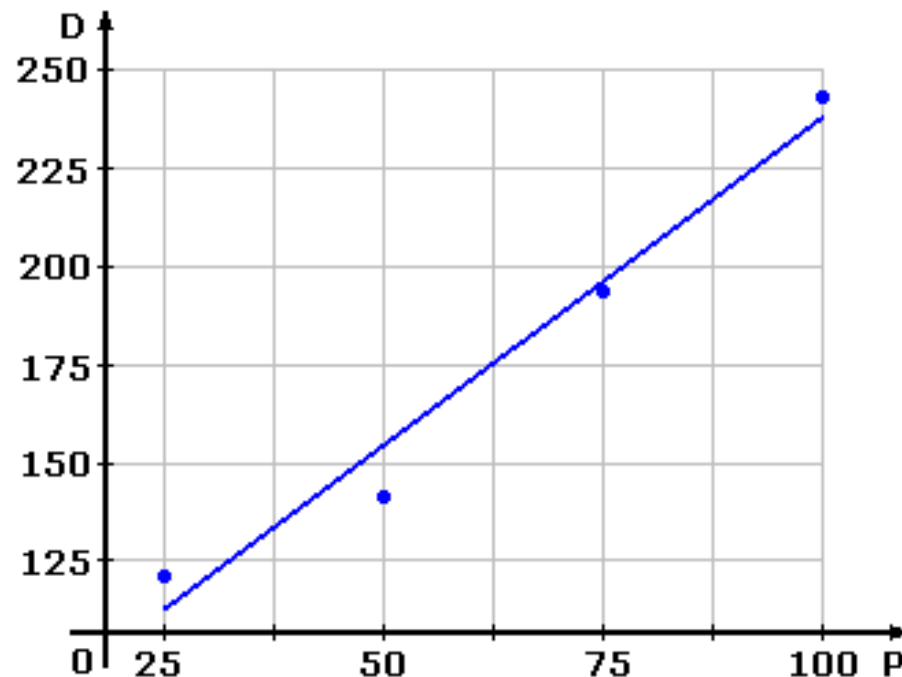
$x = \% \text{ de Perlita}$	$y = \text{Dureza (HB)}$	$x^2$	$xy$
25	120	625	3000
50	138	2500	6900
75	190	5625	14250
100	240	10000	24000
250	688	18750	48150

$$a = \frac{(\sum y)(\sum x^2) - (\sum x)(\sum xy)}{n \sum x^2 - (\sum x)^2} = 69,0$$

$$b = \frac{n \sum xy - (\sum x)(\sum y)}{n \sum x^2 - (\sum x)^2} = 1,648$$

○ Então:

$$y = 69 + 1,648x \quad \text{ou} \quad D = 69 + 1,648P$$



Substituindo  $P = 90$  na expressão anterior temos

$$D = 69 + 1,648 \cdot 90 = 217,32$$

- O procedimento de mínimos quadrados para ajustes lineares pode ser estendido para polinômios de grau mais elevado.
- Supondo-se um polinômio de segundo grau ou quadrático:

$$y = a_0 + a_1x + a_2x^2 + e$$

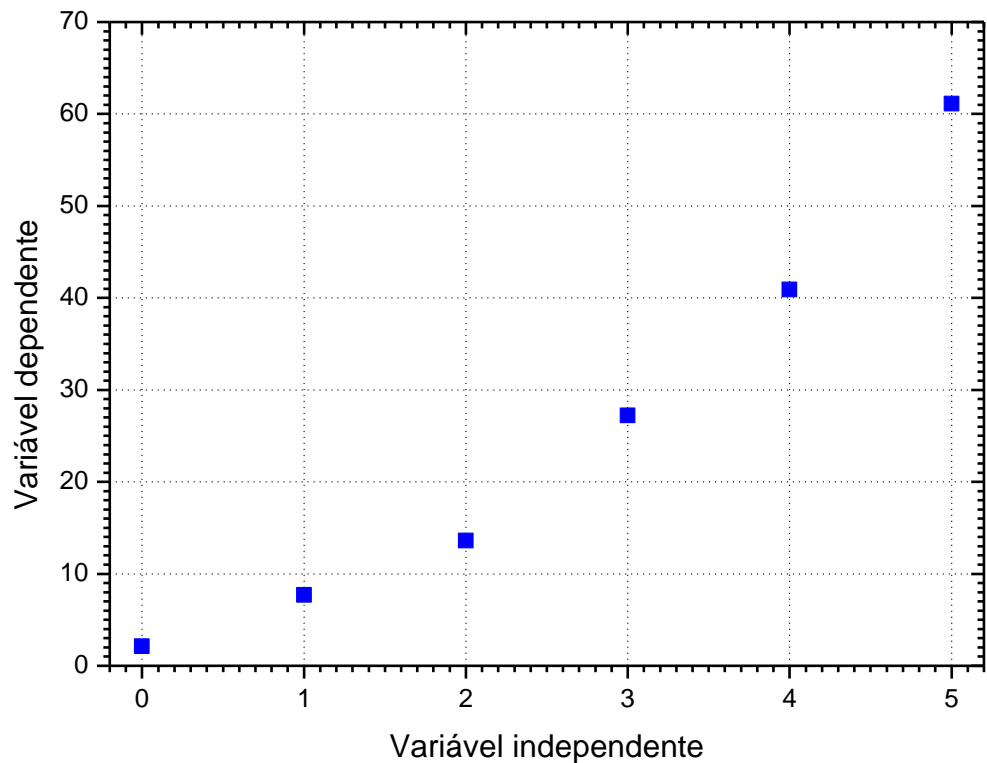


- Para o ajuste por uma função quadrática ( $y = a_0 + a_1x + a_2x^2$ ) o sistema matricial será:

$$\begin{bmatrix} n & \sum x & \sum x^2 \\ \sum x & \sum x^2 & \sum x^3 \\ \sum x^2 & \sum x^3 & \sum x^4 \end{bmatrix} \begin{bmatrix} a_0 \\ a_1 \\ a_2 \end{bmatrix} = \begin{bmatrix} \sum y \\ \sum xy \\ \sum x^2 y \end{bmatrix}$$

- Exemplo: Ajustar um polinômio de segundo grau aos dados apresentados na tabela a seguir.

$X_i$	$Y_i$
0	2,1
1	7,7
2	13,6
3	27,2
4	40,9
5	61,1



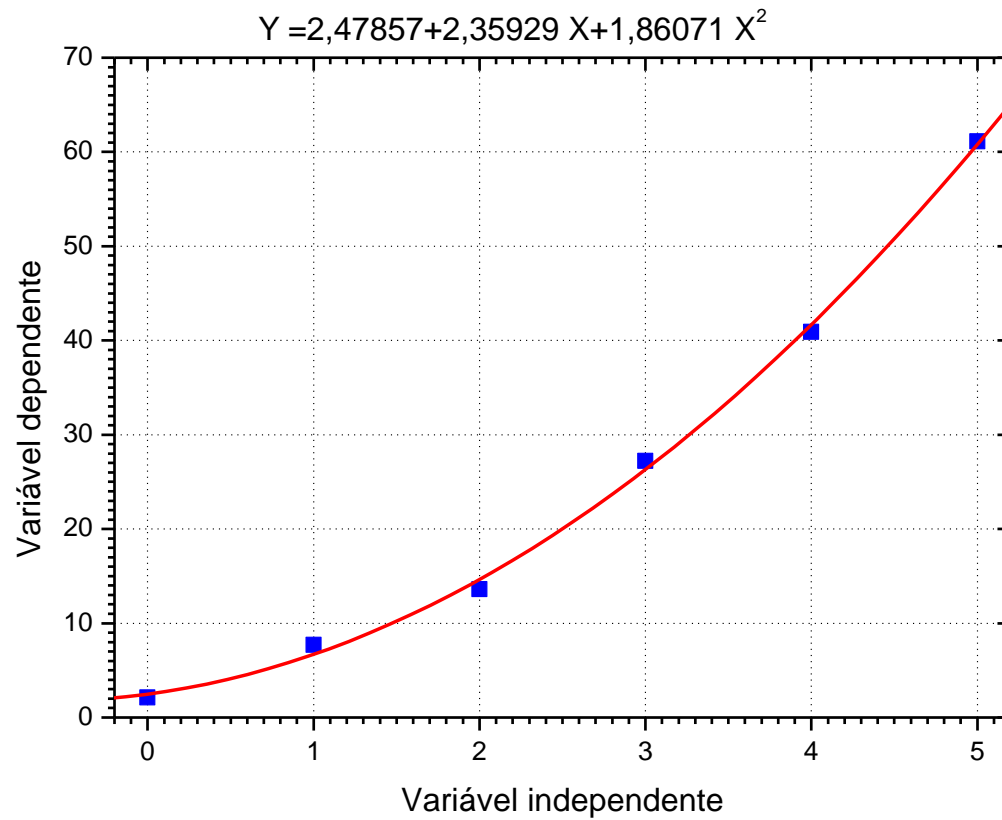
○ Então:

$x_i$	$y_i$	$x_i^2$	$x_i^3$	$x_i^4$	$x_i y_i$	$x_i^2 y_i$
0	2,1	0	0	0	0,0	0,0
1	7,7	1	1	1	7,7	7,7
2	13,6	4	8	16	27,2	54,4
3	27,2	9	27	81	81,6	244,8
4	40,9	16	64	256	163,6	654,4
5	61,1	25	125	625	305,5	1527,5
$\sum_{i=1}^n x_i = 15$ $\bar{x} = 2,5$	$\sum_{i=1}^n y_i = 152,6$ $\bar{y} = 25,433333$	$\sum_{i=1}^n x_i^2 = 55$	$\sum_{i=1}^n x_i^3 = 225$	$\sum_{i=1}^n x_i^4 = 979$	$\sum_{i=1}^n x_i y_i = 585,6$	$\sum_{i=1}^n x_i^2 y_i = 2488,8$

$$\begin{bmatrix} 6 & 15 & 55 \\ 15 & 55 & 225 \\ 55 & 225 & 979 \end{bmatrix} \begin{Bmatrix} a_0 \\ a_1 \\ a_2 \end{Bmatrix} = \begin{Bmatrix} 152,6 \\ 585,6 \\ 2488,8 \end{Bmatrix} \quad \therefore \begin{Bmatrix} a_0 \\ a_1 \\ a_2 \end{Bmatrix} = \begin{Bmatrix} 2,47857 \\ 2,35929 \\ 1,86071 \end{Bmatrix}$$

$$y = 2,47857 + 2,35929x + 1,86071x^2$$

# ○ Solução:



- Ajuste os dados abaixo pelo método de mínimos quadrados utilizando: (a) uma reta; (b) uma parábola. Trace as duas curvas no gráfico de dispersão dos dados.

$x$	2	3	4	5	6	7
$y$	0,6	0,9	0,8	1,2	1,5	1,7

*Respostas:*

$$(a) y = 0,12667 + 0,22000x$$

$$(b) y = 0,46714 + 0,04321x + 0,01964x^2$$